




# Compléments



Complète le tableau en plaçant les cases bleues dans les cases blanches. Pour trouver le résultat indiqué dans les cases rouges, tu dois additionner en lignes et en colonnes les cases bleues.


1	3
9	17

		12
		18
10	20	

Matrice 1



# Compléments



Complète le tableau en plaçant les cases bleues dans les cases blanches. Pour trouver le résultat indiqué dans les cases rouges, tu dois additionner en lignes et en colonnes les cases bleues.


24	26
34	46

		50
		80
60	70	

Matrice 2



# Compléments



Complète le tableau en plaçant les cases bleues dans les cases blanches. Pour trouver le résultat indiqué dans les cases rouges, tu dois additionner en lignes et en colonnes les cases bleues.

30	50
60	70

		120
		90
100	110	

Matrice 3



# Compléments



Complète le tableau en plaçant les cases bleues dans les cases blanches. Pour trouver le résultat indiqué dans les cases rouges, tu dois additionner en lignes et en colonnes les cases bleues.

8	14
22	26

		30
		40
36	34	

Matrice 4



# Compléments



Complète le tableau en plaçant les cases bleues dans les cases blanches. Pour trouver le résultat indiqué dans les cases rouges, tu dois additionner en lignes et en colonnes les cases bleues.


3	4
7	8
22	

			29
	16		31
10	20	30	

Matrice 5



# Compléments



Complète le tableau en plaçant les cases bleues dans les cases blanches. Pour trouver le résultat indiqué dans les cases rouges, tu dois additionner en lignes et en colonnes les cases bleues.


22	30
32	38
60	

			90
	58		150
70	80	90	

Matrice 6



# Compléments




Complète le tableau en plaçant les cases bleues dans les cases blanches. Pour trouver le résultat indiqué dans les cases rouges, tu dois additionner en lignes et en colonnes les cases bleues.

22	13
17	38
15	25

			60
			70
60	30	40	



# Compléments



Complète le tableau en plaçant les cases bleues dans les cases blanches. Pour trouver le résultat indiqué dans les cases rouges, tu dois additionner en lignes et en colonnes les cases bleues.

12	18
22	38
42	28

			72
			88
70	40	50	