



Additions




Complète le tableau en plaçant les nombres dans les cases blanches. Pour trouver le résultat indiqué dans les cases extérieures, tu dois additionner en lignes et en colonnes les nombres que tu as placés.

| | |
|---|---|
| 1 | 2 |
| 3 | 4 |

| | | |
|---|---|---|
| | | 5 |
| | | 5 |
| 4 | 6 | |

Matrice 1



Additions



Complète le tableau en plaçant les nombres dans les cases blanches. Pour trouver le résultat indiqué dans les cases extérieures, tu dois additionner en lignes et en colonnes les nombres que tu as placés.

| | |
|---|---|
| 1 | 2 |
| 3 | 4 |

| | | |
|---|---|---|
| | | 4 |
| | | 6 |
| 3 | 7 | |

Matrice 2



Additions




Complète le tableau en plaçant les nombres dans les cases blanches. Pour trouver le résultat indiqué dans les cases extérieures, tu dois additionner en lignes et en colonnes les nombres que tu as placés.

| | |
|---|---|
| 1 | 2 |
| 3 | 4 |
| 1 | 2 |

| | | | |
|---|---|---|---|
| | | | 6 |
| | | | 7 |
| 7 | 2 | 4 | |

Matrice 3



Additions



Complète le tableau en plaçant les nombres dans les cases blanches. Pour trouver le résultat indiqué dans les cases extérieures, tu dois additionner en lignes et en colonnes les nombres que tu as placés.

| | |
|---|---|
| 1 | 2 |
| 3 | 4 |
| 5 | 6 |

| | | | |
|---|---|---|----|
| | | | 8 |
| | | | 13 |
| 7 | 5 | 9 | |

Matrice 4



Additions




Complète le tableau en plaçant les nombres dans les cases blanches. Pour trouver le résultat indiqué dans les cases extérieures, tu dois additionner en lignes et en colonnes les nombres que tu as placés.


| | |
|---|---|
| 1 | 2 |
| 3 | 4 |
| 5 | 6 |

| | | | |
|---|----|---|----|
| | | | 9 |
| | | | 12 |
| 3 | 11 | 7 | |

Matrice 5



Additions



Complète le tableau en plaçant les nombres dans les cases blanches. Pour trouver le résultat indiqué dans les cases extérieures, tu dois additionner en lignes et en colonnes les nombres que tu as placés.

| | |
|---|---|
| 1 | 2 |
| 3 | 4 |
| 5 | 6 |

| | | | |
|---|---|---|----|
| | | | 9 |
| | | | 12 |
| 5 | 7 | 9 | |

Matrice 6



Additions



Complète le tableau en plaçant les nombres dans les cases blanches. Pour trouver le résultat indiqué dans les cases extérieures, tu dois additionner en lignes et en colonnes les nombres que tu as placés.

| | | |
|---|---|---|
| 1 | 2 | 3 |
| 4 | 5 | 4 |
| 3 | 2 | 1 |

| | | | |
|---|----|---|----|
| | | | 6 |
| | | | 10 |
| | | | 9 |
| 8 | 10 | 7 | |

Matrice 7



Additions



Complète le tableau en plaçant les nombres dans les cases blanches. Pour trouver le résultat indiqué dans les cases extérieures, tu dois additionner en lignes et en colonnes les nombres que tu as placés.

| | | |
|---|---|---|
| 1 | 2 | 3 |
| 4 | 5 | 6 |
| 7 | 8 | 9 |

| | | | |
|----|----|----|----|
| | | | 6 |
| | | | 18 |
| | | | 21 |
| 14 | 14 | 17 | |

Matrice 8