



Fractions et décimaux



Complète le tableau en plaçant les cases bleues dans les cases blanches. Pour trouver les résultats indiqués dans les cases rouges, tu dois additionner en lignes et en colonnes les cases bleues.

$\frac{1}{2}$	$\frac{1}{2}$
$\frac{1}{4}$	$\frac{1}{4}$

		0,75
		0,75
0,75	0,75	

Matrice 1



Fractions et décimaux




Complète le tableau en plaçant les cases bleues dans les cases blanches. Pour trouver les résultats indiqués dans les cases rouges, tu dois additionner en lignes et en colonnes les cases bleues.


$\frac{1}{2}$	$\frac{1}{4}$
$\frac{2}{4}$	$\frac{3}{4}$

		1
		1
0,75	1,25	

Matrice 2



Fractions et décimaux



Complète le tableau en plaçant les cases bleues dans les cases blanches. Pour trouver les résultats indiqués dans les cases rouges, tu dois additionner en lignes et en colonnes les cases bleues.


$\frac{1}{2}$	$\frac{1}{2}$
$\frac{1}{2}$	$\frac{2}{4}$
$\frac{1}{2}$	$\frac{1}{4}$

			1,5
			1,25
1	1	0,75	

Matrice 3



Fractions et décimaux



Complète le tableau en plaçant les cases bleues dans les cases blanches. Pour trouver les résultats indiqués dans les cases rouges, tu dois additionner en lignes et en colonnes les cases bleues.


$\frac{1}{2}$	$\frac{1}{2}$
$\frac{2}{4}$	$\frac{3}{4}$
$\frac{3}{4}$	$\frac{3}{4}$

			2
			1,75
1,25	1	1,5	

Matrice 4



Fractions et décimaux




Complète le tableau en plaçant les cases bleues dans les cases blanches. Pour trouver les résultats indiqués dans les cases rouges, tu dois additionner en lignes et en colonnes les cases bleues.


$\frac{1}{2}$	$\frac{2}{2}$
$\frac{1}{4}$	$\frac{1}{4}$
$\frac{2}{4}$	$\frac{3}{4}$

			2,25
			1
1	1,5	0,75	

Matrice 5



Fractions et décimaux



Complète le tableau en plaçant les cases bleues dans les cases blanches. Pour trouver les résultats indiqués dans les cases rouges, tu dois additionner en lignes et en colonnes les cases bleues.

$\frac{2}{1}$	$\frac{1}{2}$
$\frac{2}{2}$	$\frac{4}{2}$
$\frac{2}{4}$	$\frac{4}{4}$

			5
			2
2,5	1,5	3	

Matrice 6



Fractions et décimaux



Complète le tableau en plaçant les cases bleues dans les cases blanches. Pour trouver les résultats indiqués dans les cases rouges, tu dois additionner en lignes et en colonnes les cases bleues.


$\frac{1}{2}$	$\frac{2}{2}$	$\frac{3}{2}$
$\frac{4}{2}$	$\frac{5}{2}$	$\frac{6}{2}$
$\frac{7}{2}$	$\frac{8}{2}$	$\frac{9}{2}$

			8
			5,5
			9
8,5	3	11	

Matrice 7



Fractions et décimaux



Complète le tableau en plaçant les cases bleues dans les cases blanches. Pour trouver les résultats indiqués dans les cases rouges, tu dois additionner en lignes et en colonnes les cases bleues.

$\frac{1}{4}$	$\frac{2}{4}$	$\frac{3}{4}$
$\frac{4}{4}$	$\frac{5}{4}$	$\frac{6}{4}$
$\frac{7}{4}$	$\frac{8}{4}$	$\frac{9}{4}$

			1,5
			3,75
			6
3,5	3,75	4	

Matrice 8