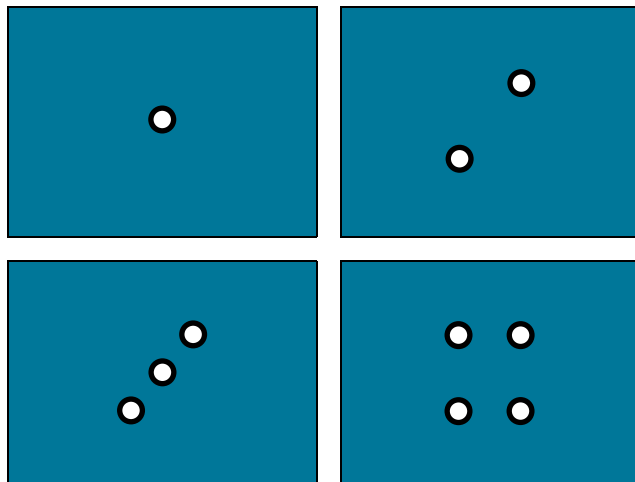




# Additions non chiffrées



Complète le tableau en plaçant les cartes dans les cases blanches. Pour trouver le résultat indiqué dans les cases grises, tu dois faire l'addition en lignes et en colonnes.



|  |  |  |
|--|--|--|
|  |  |  |
|  |  |  |
|  |  |  |

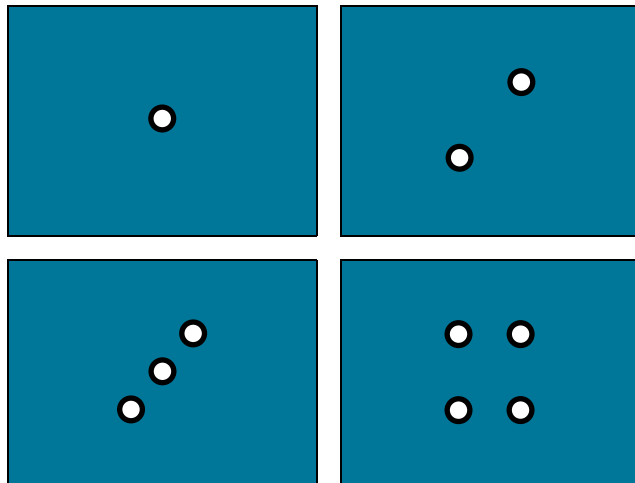
Matrice 1



# Additions non chiffrées



Complète le tableau en plaçant les nombres dans les cases blanches. Pour trouver le résultat indiqué dans les cases grises, tu dois faire l'addition en lignes et en colonnes.




|  |  |  |
|--|--|--|
|  |  |  |
|  |  |  |
|  |  |  |


Matrice 2



# Additions non chiffrées



Complète le tableau en plaçant les nombres dans les cases blanches. Pour trouver le résultat indiqué dans les cases grises, tu dois faire l'addition en lignes et en colonnes.



|  |  |  |
|--|--|--|
|  |  |  |
|  |  |  |
|  |  |  |

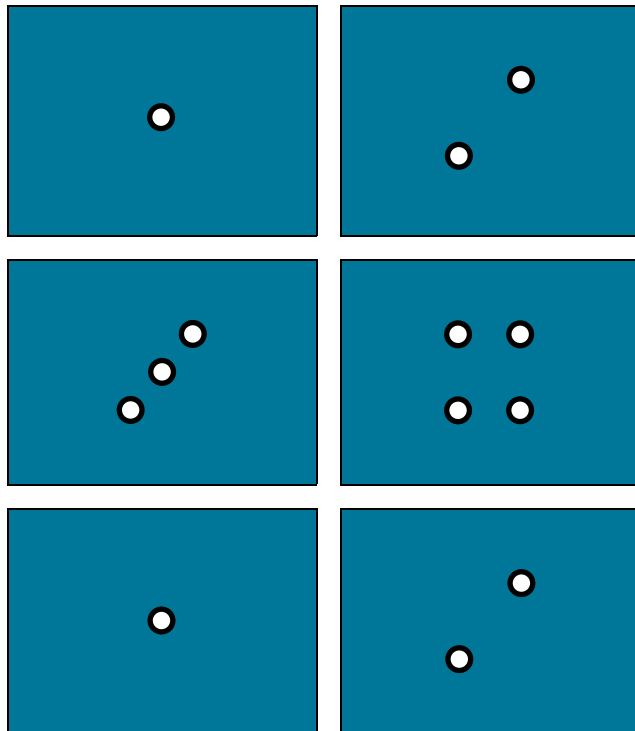
Matrice 3



# Additions non chiffrées



Complète le tableau en plaçant les nombres dans les cases blanches. Pour trouver le résultat indiqué dans les cases grises, tu dois faire l'addition en lignes et en colonnes.



|  |  |  |  |
|--|--|--|--|
|  |  |  |  |
|  |  |  |  |
|  |  |  |  |

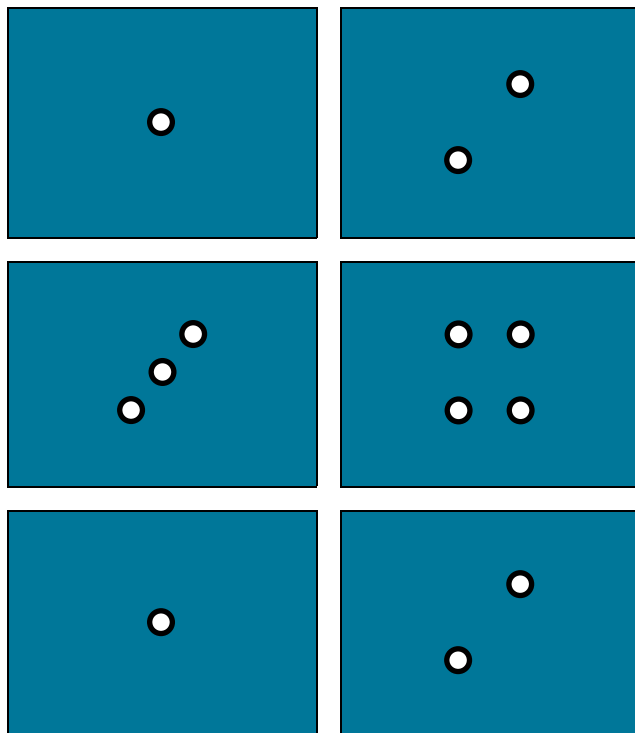
Matrice 4



# Additions non chiffrées



Complète le tableau en plaçant les nombres dans les cases blanches. Pour trouver le résultat indiqué dans les cases grises, tu dois faire l'addition en lignes et en colonnes.




|  |  |  |  |
|--|--|--|--|
|  |  |  |  |
|  |  |  |  |
|  |  |  |  |


Matrice 5



# Additions non chiffrées



Complète le tableau en plaçant les nombres dans les cases blanches. Pour trouver le résultat indiqué dans les cases grises, tu dois faire l'addition en lignes et en colonnes.



|  |  |  |  |
|--|--|--|--|
|  |  |  |  |
|  |  |  |  |
|  |  |  |  |